



TS SC STUDY CIRCLE: MAHABUBNAGAR
MOCK TEST- 6

Name:
Max. Marks: 100 M
Subject: GS

Roll Number:
Date: 16.07.2023

1-25) : GK & Current Affairs

1. పి.ఎం. మోడీ “మిషన్ స్క్వాల్స్ ఆఫ్ ఎక్సలెన్స్”ను ఈ క్రింది ఏ రాష్ట్రంలో ప్రారంభించారు?

1. మహారాష్ట్ర 2. మధ్యప్రదేశ్
3. కేరళ 4. గుజరాత్

2. ఈ క్రింది వాటిలో సరైనవి గుర్తించండి?

- ఎ. యుకె ప్రధానమంత్రి పదవికి లిజ్‌ట్రస్స్ రాజీనామా చేశారు.
బి. లిజ్‌ట్రస్స్ బ్రిటన్ ప్రధానమంత్రిగా అత్యంత తక్కువ కాలం (45 రోజులు) ప్రధానమంత్రిగా పనిచేశారు.

కోడ్లు

1. కేవలం ఎ 2. కేవలం బి
3. ఎ మరియు బి 4. ఏదీకాదు

3. ఈ క్రింది వాటిలో సరైనవి గుర్తించండి?

- ఎ. భారత్ మరియు అమెరికా దేశ సైన్యాలు Tiger Triumph' అనే విన్యాసమును విశాఖపట్టణంలో నిర్వహించారు.
బి. 2019లో 'Tiger Triumph' విన్యాసమును మొదటిసారి విశాఖపట్టణంలో తొమ్మిది రోజులపాటు నిర్వహించారు.

కోడ్లు

1. కేవలం ఎ 2. కేవలం బి
3. ఎ మరియు సి 4. ఏదీకాదు

4. ఈ క్రింది వాటిలో సరైనవి గుర్తించండి?

- ఎ. ఫైనాన్షియల్ యాక్షన్ టాస్క్ ఫోర్స్ ప్రధాన కార్యాలయం పారిస్ (ఫ్రాన్స్)లో కలదు.
బి. ఫైనాన్షియల్ యాక్షన్ టాస్క్ ఫోర్స్ (FATF) నకు అధ్యక్షుడిగా డి. రాజా కుమార్ పని చేస్తున్నారు.
సి. FATF మయన్మార్ దేశమును బ్లాక్ లిస్ట్ / High Risk Countries జాబితాలో చేర్చినది.
డి. FATF 'బ్లాక్ లిస్ట్'లో ఉత్తర కొరియా మరియు ఇరాన్ తో పాటు మూడవ దేశంగా మయన్మార్ చేర్చబడింది. FATF లో ప్రస్తుతం 39 సభ్య దేశాలు కలవు.

కోడ్లు

1. ఎ, బి మరియు సి 2. బి, సి మరియు డి
3. ఎ, సి మరియు డి 4. ఎ, బి, సి మరియు డి

5. ఈ క్రింది వాటిలో సరైనవి గుర్తించండి?

- ఎ. అక్టోబర్ 24వ తేదీని “యునైటెడ్ నేషన్స్ డే”గా నిర్వహించారు.

బి. ఈ దినోత్సవమును మొదటిసారిగా 1948 లో నిర్వహించారు.

సి. 2022 ఈ దినోత్సవం యొక్క ఇతివృత్తం : "Building Back together for Peace and Prosperity"

డి. ప్రస్తుతం యు.ఎన్.ఓలో 193 సభ్యదేశాలు కలవు. కోడ్లు

1. ఎ, సి మరియు డి 2. బి, సి మరియు డి
3. ఎ, బి, సి మరియు డి 4. ఏదీకాదు

6. ఈ క్రింది వాటిలో సరైనవి గుర్తించండి?

ఎ. అక్టోబర్ 23వ తేదీని ప్రతి సంవత్సరం 'జాతీయ ఆయుర్వేద దినోత్సవం' గా నిర్వహిస్తున్నారు.

బి. ఈ దినోత్సవమును 2016 నుంచి ప్రతి సంవత్సరం ధన్వంతరి జయంతి సందర్భంగా నిర్వహిస్తున్నారు.

సి. అక్టోబర్ 23, 2022 న 7వ జాతీయ ఆయుర్వేద దినోత్సవమును నిర్వహించారు.

డి. 2022 ఈ దినోత్సవము యొక్క ఇతి వృత్తం : హర్ దిన్ హర్ ఘర్ ఆయుర్వేద

కోడ్లు

1. ఎ, సి మరియు డి 2. బి, సి మరియు డి
3. ఎ, బి, సి మరియు డి 4. ఏదీకాదు

7. ఈ క్రింది వాటిలో సరైనవి గుర్తించండి?

ఎ. తెలంగాణ హైదరాబాద్ హాలీం “మోస్ట్ ఫాపులర్ జి.ఐ” అవార్డును పొందినది.

బి. హైదరాబాద్ హాలీం 2010 లో మొదటిసారిగా జి.ఐ. ట్యాగ్ ను పొందినది.

సి. తెలంగాణ రాష్ట్రం నుంచి జి.ఐ. ట్యాగ్ ను పొందిన ఇతర ఉత్పత్తులు నిర్మల్ బొమ్మలు, నిర్మల్ పెయింటింగ్స్, గద్వాల చీరలు

కోడ్లు

1. బి మరియు సి 2. ఎ మరియు సి
3. ఎ, బి మరియు సి 4. ఏదీకాదు

8. ఈ క్రింది వాటిలో సరైనవి గుర్తించండి?

ఎ. ఇండియన్ విండ్ టర్బైన్ మ్యూనుఫాక్చరర్స్ అసోషియేషన్ (IWTMA) 1998 లో స్థాపించబడినది.

బి. 5వ ఎడిషన్ ఇంటర్నేషనల్ ట్రేడ్ ఫెయిర్ అండ్ కాన్ఫరెన్స్, విండ్ ఎనర్జీ ఇండియా 2023 ను ఢిల్లీలో నిర్వహించారు.

కోడ్లు

1. కేవలం ఎ 2. కేవలం బి
3. ఎ మరియు బి 4. ఏదీకాదు

9. ఈ క్రింది వాటిలో సరైనవి గుర్తించండి?

- ఎ. లథాభ్ యం.పి. జమ్యాంగ్ (ట్రేరింగ్ రి నామ్ గ్యాల్ (Jamyong Tsering Namgyal) "Main Bhi Subhash" క్యాంపెయిన్ ను ప్రారంభించారు.
బి. నుభాష్ చంద్రబోస్ 125వ జయంతిని పురస్కరించుకొని మినిస్ట్రీ ఆఫ్ కల్చర్ మరియు INA (ట్రస్ట్) వారు అనేక కార్యక్రమాలను నిర్వహిస్తున్నారు.

కోడ్లు

1. కేవలం ఎ 2. కేవలం బి
3. ఎ మరియు బి 4. ఏదీకాదు

10. కాలుష్య రహిత దీపావళి (Pollution Free Diwali) ని నిర్వహించడం కోసం ఈ క్రింది ఏ రాష్ట్ర ప్రభుత్వం "దియే జాలావో, పటాకే దహీన్" (Diye Jalao Patake Nahin) అనే ప్రచార కార్యక్రమమును చేసినది?

1. గుజరాత్ 2. మహారాష్ట్ర
3. బీహార్ 4. ఢిల్లీ

11. ఈ క్రింది వాటిలో సరైనవి గుర్తించండి?

- ఎ. ఇస్రో మొట్టమొదటి కమర్షియల్ మిషన్ ఆఫ్ లాంచ్ వెహికల్ మార్క్ 3 (LVM 3) అనే శాటిలైట్ ను సతీష్ ధావన్ స్పేస్ సెంటర్ నుంచి విజయవంతంగా పరీక్షించినది.
బి. దీనిద్వారా యు.కె.కె నంబంధించిన 36 శాటిలైట్లను కక్ష్యలోకి ప్రవేశపెట్టారు.

కోడ్లు

1. కేవలం ఎ 2. కేవలం బి
3. ఎ మరియు బి 4. ఏదీకాదు

12. ఇస్రో వారి యొక్క ఆదిత్య-ఎల్ 1 మిషన్ ప్రిస్నిపల్ సైంటిస్ట్ గా ఎవరి పేరు సూచించబడింది?

1. మణి అయ్యర్ 2. శంకర సుబ్రమణియన్
3. మహేంద్రన్ 4. మదన్ మోహన్

13. ఈ క్రింది వాటిలో సరైనవి గుర్తించండి?

- ఎ. అక్టోబర్ 24వ తేదీన ప్రపంచ పోలియో దినోత్సవముగా నిర్వహించారు.
బి. 2022 ఈ దినోత్సవం యొక్క ఇతి వృత్తం :

వరల్డ్ పోలియో డే 2022 అండ్ బియాండ్
: ఎ హెల్త్ యర్ ప్యూవర్ ఫర్ మదర్స్ అండ్ చిల్డ్రన్

కోడ్లు

1. కేవలం ఎ 2. కేవలం బి
3. ఎ మరియు సి 4. ఏదీకాదు

14. ఈ క్రింది వాటిలో సరైన జతలను గుర్తించండి?

- ఎ. స్వీడన్ దేశ ప్రధాన మంత్రి - యుఎల్ఎఫ్ క్రిస్టెర్సన్
బి. ఇరాక్ అధ్యక్షుడు - అబ్దుల్ లతీఫ్ రహీద్
సి. ఆస్ట్రేలియా అధ్యక్షుడు-అల్గాంధర్ వాన్ డెర్ బెల్జెన్
డి. సౌదీ అరేబియా ప్రధానమంత్రి - మొహమ్మద్ బిన్ సల్మాన్

కోడ్లు

1. ఎ, బి మరియు సి 2. బి, సి మరియు డి
3. ఎ, సి మరియు డి 4. ఎ, బి, సి మరియు డి

15. ఈ క్రింది వాటిలో సరైనవి గుర్తించండి? (ఇటీవల జి.ఐ ట్యాగ్ పొందినవి)

- ఎ. వడ కోలం రైస్ (Wada Kolam Rice)- తమిళనాడు
బి. అలీబాగ్ వైట్ ఆనియాన్ (Alibaug White Onion) - మహారాష్ట్ర
సి. కరువ వహూర్ కలంకారి పెయింటింగ్ (Karuppur Kalamkari Paintings) - కేరళ
డి. నరసింగ పెట్టె నాగస్వరం (Narasingapettai Nagaswaram) - తమిళనాడు

కోడ్లు

1. ఎ, బి మరియు సి 2. బి, సి మరియు డి
3. బి మరియు డి 4. ఎ మరియు బి

16. ఈ క్రింది వాటిలో సరైనవి గుర్తించండి?

- ఎ. ఫైనాన్షియల్ యాక్షన్ టాస్క్ ఫోర్స్ (FATF) అనే అంతర ప్రభుత్వ సంస్థ 1989 లో స్థాపించబడింది.
బి. G7 సభ్య దేశాలు మనీలాండరింగ్ మరియు టెర్రరిస్ట్ ఫైనాన్సింగ్ ను కట్టి చేయడం కోసం FATF ను ప్రారంభించారు.
సి. 'FATF' లో 2 ప్రధాన జాబితాలు కలవు అవి : బ్లాక్ లిస్ట్ మరియు గ్రీ లిస్ట్

కోడ్లు

1. ఎ, బి మరియు సి 2. ఎ మరియు సి
3. బి మరియు సి 4. ఏదీకాదు

17. ఈ క్రింది వాటిలో వేటివేటికీ ప్రధాని నరేంద్రమోదీ శంకుస్థాపన ప్రారంభం చేశారు?

- ఎ. 4వ వందే భారత్ ఎక్స్‌ప్రెస్స్ - హిమాచల్ ప్రదేశ్
- బి. శ్రీ మహాకల్ లోక్ కాంప్లెక్స్ - ఉజ్జయిని
- సి. రెండు హైడ్రో ఎలక్ట్రిక్ పవర్ ప్రాజెక్టులు - హిమాచల్ ప్రదేశ్
- డి. ఎయిమ్స్, బిలాస్ పూర్ - హిమాచల్ ప్రదేశ్ కోడ్లు

- 1. ఎ మరియు బి
- 2. బి మరియు డి
- 3. ఎ, బి మరియు సి
- 4. ఎ, బి, సి మరియు డి

18. కేంద్ర మహిళా మరియు శిశు సంక్షేమ మంత్రిత్వ శాఖ వారు ఇటీవల భారతదేశంలో మొట్టమొదటి "మైగ్రేషన్ మానిటరింగ్ సిస్టం"ను ఎక్కడ ప్రారంభించారు?

- 1. హైదరాబాద్
- 2. న్యూఢిల్లీ
- 3. జమ్మూ & కాశ్మీర్
- 4. ముంబై

19. ఇటీవల ఈ క్రింది ఏ భారతదేశ రాష్ట్రం "Out-of-Forest trees in India (TOFI)" అనే కార్యక్రమమును యుఎన్ ఏజెన్సీ థర్ ఇంటర్నేషనల్ డెవలప్ మెంట్ (USAID) వారి సహకారంతో ప్రారంభించడం జరిగినది?

- 1. ఆంధ్రప్రదేశ్
- 2. కేరళ
- 3. తమిళనాడు
- 4. అస్సాం

20. "పథర్ పంచాలి" (Pather Panchali) సినిమాను "ది బెస్ట్ ఇండియన్ ఫిల్మ్ ఆఫ్ ఆల్ టైమ్"గా ఇంటర్నేషనల్ ఫెడరేషన్ ఆఫ్ ఫిల్మ్ క్రిటిక్స్ (FIPRESCI) గా పేర్కొన్నది. ఈ సినిమా డైరెక్టర్ ను గుర్తించండి?

- 1. రమేష్ సిప్పి
- 2. దాదా సాహెబ్ ఫాల్కే
- 3. అనురాగ్
- 4. సత్యజిత్ రే

21. ఈ క్రింది వాటిలో ఎన్ని జతలు సరైనవి?

- 1. సింగపూర్ ఎఫ్ 1 గ్రాండ్ ప్రిక్స్ - సెర్జియో పేరేజ్
- 2. డచ్ ఫార్ములా 1 గ్రాండ్ ప్రిక్స్ - మాక్స్ వెర్నెటెన్
- 3. బెల్జియన్ గ్రాండ్ ప్రిక్స్ - మాక్స్ వెర్నెటెన్
- 4. హంగేరియన్ గ్రాండ్ ప్రిక్స్ - మాక్స్ వెర్నెటెన్
- 5. బ్రాజిలియన్ గ్రాండ్ ప్రిక్స్ - చార్లెస్ లెక్లెర్క్

- కోడ్లు
- 1. 5
- 2. 4
- 3. 3
- 4. 2

22. అస్సాం గవర్నర్ గా ఈ క్రింది ఎవరు పని చేస్తున్నారు?

- 1. ప్రొ॥ జగదీప్ ముఖి
- 2. అపరజిత్ శర్మ
- 3. వినయన్ వర్మ
- 4. కిరణ్ బేడీ

23. ఈ క్రింది వాటిలో సరైనవి గుర్తించండి?

- ఎ. కేంద్రమంత్రి భూపేంద్ర యాదవ్ అక్టోబర్ 26, 2022 న నూతనంగా రెండు బీచ్ లు (భారతదేశం నుంచి) బ్లూ ఫ్లాగ్ సర్టిఫికేషన్ పొందినట్లు ప్రకటించారు.
- బి. ఈ రెండు బీచ్ లతో కలుపుకొని ఇప్పటి వరకు 12 బీచ్ లు భారతదేశం నుంచి బ్లూ ఫ్లాగ్ సర్టిఫికేట్ ను పొందాయి.
- సి. బ్లూ ఫ్లాగ్ సర్టిఫికేట్ ను డెన్మార్క్ కేంద్రంగా పనిచేసే ఒక సంస్థ అందిస్తుంది.
- డి. మినికాయ్ థుండి బీచ్ (Minicoy Thundi Beach) మరియు కద్మత్ బీచ్ (Kadmat Beach) లు బ్లూ ఫ్లాగ్ సర్టిఫికేషన్ ను పొందాయి. ఇవి లక్షద్వీప్ లో కలవు.

కోడ్లు

- 1. ఎ, సి మరియు డి
- 2. బి, సి మరియు డి
- 3. ఎ, బి మరియు సి
- 4. ఎ, బి, సి మరియు డి

24. ఈ క్రింది వాటిలో సరైనవి గుర్తించండి?

- ఎ. అక్టోబర్ 26, 2022 న జర్మనీ ప్రభుత్వం గంజాయి (Cannabis) వినియోగమును చట్టబద్ధం చేస్తూ నిర్ణయం తీసుకున్నది.
- బి. యూరోపియన్ యూనియన్ దేశాల నుంచి గంజాయి వినియోగమును చట్టబద్ధము చేసిన రెండవ దేశంగా జర్మనీ దేశము నిలిచినది. మొదటి దేశము మాల్డా
- సి. జర్మనీ ఛాన్సిలర్ గా ఒలాఫ్ స్కాల్ట్ (Olaf Scholz) పని చేస్తున్నారు.

కోడ్లు

- 1. ఎ మరియు బి
- 2. బి మరియు సి
- 3. ఎ, బి మరియు సి
- 4. ఏదీకాదు

25. ఈ క్రింది వాటిలో సరైనవి గుర్తించండి?

- ఎ. రాష్ట్రాల హోం మంత్రులు మరియు డి.జి.పి ల సమావేశము అక్టోబర్ 27, 28 తేదీలలో సూరజ్ కుండ్ (హర్యానా)లో నిర్వహిస్తున్నారు.
- బి. ఈ సమావేశమునకు దేశ ప్రధాని నరేంద్ర మోదీ హాజరు కానున్నారు.

కోడ్లు

- 1. కేవలం ఎ
- 2. కేవలం బి
- 3. ఎ మరియు బి
- 4. ఏదీకాదు

[26 - 40] : Arithmetic

26. ఒక వ్యక్తి A నుండి B కి 15 km/h వేగము తో మరల A కు 30km/h వేగముతో ప్రయాణించిన, మొత్తం ప్రయాణం లో వ్యక్తి సగటు వేగము

ఎంత

- 1.15 km/h 2.25 km/h 3.20 km/h 4.24 km/h

27. సగటున గంటకి 6 కిలో మీటర్ల వేగముతో నడిచే మనిషి 10 నిమిషాలలో ప్రయాణించే దూరము

- 1.1.5 కిలో మీటర్లు 2.2 కి.మీ 3.1 కి.మీ. 4.1.33 కి.మీ

28. ఒక రైలు 1250 కిలో మీటర్ల దూరమును 25 గంటలలో ప్రయాణిస్తే, రైలు వేగము ఎంత

- 1.25 km/h 2.75km/h 3.50km/h 4.60 km/h

29. ఒక రైలు వేగము 45 km/h మరొక రైలు వేగము 10 m/s అయిన వేగముల నిష్పత్తి

1. 4 : 5 2.3:5 3.5:4 4.1 :4

30. మూడు కార్ల వేగాల నిష్పత్తి 4:3:2 అయిన పట్టణ సమయాల మధ్య నిష్పత్తి ఎంత

- 1.2:3:4 2.3:4:6 3.1:2:3 4.4:3:2

31. ఒక రైలు స్టేషన్ A నుండి B కి సగటున 64 km/h వేగముతో ప్రయాణిస్తుంది. కాని తిరుగు ప్రయాణములో B నుండి A కి ఆ రైలు తక్కువ వేగముతో ప్రయాణించగా మొత్తం ప్రయాణం లో సగటు వేగము 56 km/h అయితే తిరుగు ప్రయాణం లో రైలు సగటు వేగము ఎంత

- 1.48 km/h 2.50 km/h 3.52 km/h 4.47.4 km/h

32. ఒక వ్యక్తి పట్టణానికి 4 km/h వేగముతో ప్రయాణించి తిరిగి పట్టణం నుండి ఇంటికి 5 km/h వేగం తో ప్రయాణించిన పట్టణ మొత్తం సమయం 9 గంటలు అయితే ఇంటి నుండి పట్టణానికి గల దూరం ఎంత

- 1.20 కి.మీ 2.25 కి.మీ 3.18 కి.మీ 4.15 కి.మీ

33. ఒక వ్యక్తి తన ప్రయాణం లో 2/25 వంతును బస్సు లోనూ, 21/50 వంతును కారు లోనూ, మిగిలిన 2 కి.మీ దూరాన్ని నడిచి గమ్యం చేరుకున్నాడు. మొత్తం ప్రయాణ దూరం ఎంత

1. 4 కి.మీ 2.5 కి.మీ 3.6 కి.మీ 4.7 కి.మీ

34. ఇద్దరు రన్నర్లు ఒకే దూరమును వరుసగా 10 కి.మీ/ గం., 12 కి.మీ/గం. వేగముతో చేరగలరు. ఒకడు మరొకని కన్నా 10 ని.ల కాలం ఎక్కువగా తీసుకున్న వారు పరుగెత్తు దూరం ఎంత

1. 10 కి.మీ 2.15 కి.మీ 3.18 కి.మీ 4.25 కి.మీ

35. ఒక వ్యక్తి ఒక వంతెనను 15 కి.మీ/ గం. వేగము తో పరిగెత్తి 5 నిమిషాలలో దాటితే, ఆ వంతెన పొడవు

1. 1333 మీ. 2.1000 మీ. 3.7500 మీ. 4.1250 మీ.

36. ధ్వని ఒక సెకనుకు 330 మీ. వేగం తో ప్రయాణం చేయును. మెరుపు తర్వాత ఉరుము 10 సెకనులకు వినిపిస్తే, ఉరుము ఎంత దూరం లో ఉన్నట్లు ?

- 1.3.3 కి.మీ 2.33 కి.మీ 3.0.33 కి.మీ 4.3.33 కి.మీ

37. ఒక కారు 108 కి.మీ/ గం. వేగం తో ప్రయాణిస్తుంది. ఆ కారు 15 సెకన్లలో ఎన్ని మీటర్ల దూరం ప్రయాణం చేస్తుంది.

- 1.450 కి.మీ 2.45 కి.మీ 3.55 కి.మీ 4.90 కి.మీ

38. సాధారణ వేగం కంటే 40 % ఎక్కువ వేగం తో రమణ అతని ఆఫీసుకు 6 నిమిషాల ముందు చేరుకుంటాడు. అతను ఆఫీసు కు చేరడానికి పట్టే సమయం ఎంత

- 1.18 2.21 3.24 4.28

39. ఒక వ్యక్తి తన సైకిల్ పై ప్రయాణించి, ఒక ప్రదేశాన్ని 6 గంటలలో చేరతాడు. ఆ వ్యక్తి అతని వేగాన్ని ఐదో వంతు తగ్గించుకుంటే, అదే సమయం లో అతను 5 కి.మీ తక్కువ ప్రయాణిస్తాడు. అతని వేగం ఎంత

- 1.5 కి.మీ./గం 2. 4 1/6 కి.మీ/గం 3. 4 1/2 కి.మీ /గం. 4. 3 5/6 కి.మీ/గం.

40. ఒక వ్యక్తి 6.30 am కు పట్టణం P నుండి పట్టణం Q కి బయలు దేరాడు. అతను 90 kmph వేగము తో 2 గంటల 30 నిమిషాలు ప్రయాణించాడు. ఆ తరువాత వేగమును 50 kmph కి తగ్గించాడు. ఆ పట్టణముల మధ్య దూరము 345 కి.మీ లు అయితే, అతను పట్టణం Q కి ఎప్పుడు చేరాడు.

1. 10.25 am 2.11.15 am 3.11.24 am 4.11.50 am

(41 – 50) : English (Fill in the blanks)

41. He has been _____ (serve) in this hotel since 1992.
1. served 2. serves 3. serving 4. service
42. Ravi Shankar _____ by the Music Society.
1. honoured 2. was honoured 3. has been honoured 4. is honouring
43. Srilatha _____ (go) to market daily.
1. go 2. went 3. goes 4. going.
44. The train had already left when I _____ (reach) the station.
1. reaches 2. reached 3. reach 4. none of the above
45. I was waiting for the cab when I _____ (meet) Raj.
1. meet 2. met 3. meeting 4. None of the above
46. My brother _____ sleep till noon if no one wakes him up.
1. has been 2. was 3. will 4. is
47. Venu _____ (invited) all his friends for today's party.
1. has invited 2. have invited 3. invited 4. was invited.
48. _____ you _____ (hear) about the new education policies.
1. has, heard 2. have, heard 3. was, heard 4. has been, heard
49. I don't think the place _____ (function) well for a very long time before it shut down.
1. had functioning 2. had been functioning
3. has been functioning 4. was functioning
50. My cousins _____ (suggest) that we called the police when we found the burglars.
1. had been suggesting 2. had suggested
3. has suggested 4. has been suggesting

(51 – 52) : English Sentence Arrangement :

51. Arrange the order
1. the train had already left.
2. When I reached the Railway station.
3. Rama told me that
4. Rajesh is going to Hyderabad.
1.1,2,3,4 2.3,2,1,4 3.1,3,2,4 4.3,4,2,1
52. Arrange the order
1. Presently, the market is downfall from day to day.
2. As the imports, exports are not in equal economically.
3. The Country will go for emergency for this.
1.1,2,3 2.3,2,1 3.2,3,1 4.1,3,2

(53-55) : English : Fill Articles in the blanks

53. _____ Indonesia is a country in Asia, It has _____ most muslim population
1. The, The 2. The, a 3. An, a 4. An, an
54. Exhibition starts for every 6 months _____ year
1. a 2. an 3. the 4. No Article

55. I saw _____ bird sitting on the tree in front of my house.
 1.a 2.an 3.the 4.No article.

(56-65) : Indian History

56. క్రింది బెంగాల్ నవాబుల యొక్క క్రమాను సారం

1. సిరాజ్ ఉద్దౌలా 2.మీర్జాపూర్ 3.మీర్ జాసిం 4.అలీ వర్ధన్ ఖాన్
 1.1,2,3,4 2.4,1,2,3 3.2,1,3,4 4.1,3,2,4

57. క్రింది వానిలో సరి కానిది/ కానివి ఏవి

1. సిరాజ్ ఉద్దౌలా బ్రిటిష్ మరియు ఫ్రెంచ్ వారికి తమ వర్తక స్థావర రక్షణ కోసం కోటల నిర్మాణము చేపట్టారని చెప్పారు.
 2. ఆంగ్లేయుల వస్తువులను గుర్తిస్తూ జారీ చేసే పత్రాలను దస్తావులు అందురు
 3. అలీ వర్ధన్ ఖాన్ మనువడైన సిరాజ్ ఉద్దౌలా తన మరణానంతరం సింహాసనం అధిష్టించెను
 4. సిరాజ్ ఉద్దౌలా బెంగాల్ లో బ్రిటిష్ వారి ఉనికిని సహించలేదు.
 1.1 మాత్రమే 2.2 మాత్రమే 3.3 మాత్రమే 4.పైవన్నీ సరైనవి.

58. కలకత్తా చీకటి గది ఉదంతం ప్రకారం క్రింది వానిలో సరి కానిది

1. ఇది 1756 సంవత్సరం లో జరిగింది. 2. ఇందులో 123 మంది బ్రిటిష్ వారు మరణించారు.
 3. దీనిని బ్లాక్ చోల్ ట్రాజెడీ గా వ్యవహరిస్తారు 4. దీని తరువాత ఫ్రెంచ్ వారితో అలీ నగర్ సంది చేసుకున్నారు.

59. క్రింది వాటిని పరిశీలించుము

1. 1757 లో ఫ్లాసీ యుద్ధం జరిగింది. 2. ఇందులో బ్రిటిష్ వారు, సిరాజ్ ఉద్దౌల పాల్గొన్నారు
 3. ఇందులో సిరాజ్ విజయం సాధించారు. 4. దీని తదనంతరం బ్రిటిష్ వారు సిరాజ్ కు లొంగిపోయారు.

పై వాటిలో సరైనవి.

- 1.1,2,3 మాత్రమే 2.1,2 మాత్రమే 3.2,3,4 మాత్రమే 4.1,3 మాత్రమే

60. క్రింది వాటిని జత పరుచుము

1. ఫ్లాసీ యుద్ధం A. మీర్ జాఫర్
 2. బక్కారు యుద్ధం B. సిరాజ్ ఉద్దౌలా
 3. చీకటి గది ఉదంతం C. బ్రిటిష్ సైన్యాన్ని కోటలో బంధించడం
 1.1-A, 2-B,3-C 2. 1-B, 2-A,3-C 3. 1-C, 2-B,3-A 4. 1-B, 2-C,3-A

61. క్రింది సంఘటనలను పరిశీలించుము

1. 1757 లో ఫ్లాసీ యుద్ధం జరిగినది.
 2. 1764 లో బక్కారు యుద్ధం జరిగినది.
 3. 1756 లో చీకటి గది ఉదంతం జరిగినది.
 4. 1765 లో మీర్ జాఫర్ ను గణించెను.
 1.1,2,3,4 సరైనవి. 2.1,2 మాత్రమే సరైనవి 3.1,2,3 మాత్రమే సరైనవి 4.1,3,4 సరైనవి.

62. క్రింది వాటిని జత పరుచుము

1. హైదర్ అలీ A. ఫతే జంగ్ హైదర్
 2. టిప్పు సుల్తాన్ B. స్వతంత్ర మైసూరు రాజ్య స్థాపకుడు
 3. యదురాయ వడయార్ C. మైసూరు రాజ్య స్థాపకుడు
 4. కృష్ణరాజ వడయార్ D. మైసూరు రాజ్యం లో సైనికాధికారి
 E. ఫతే ఆలీ ఖాన్ సాహెబ్
 1.1-A, 2-B,3-C,4-D 2. 1-E, 2-B,3-C,4-D 3. 1-A, 2-E,3-C,4-D 4. 1-A, 2-C,3-E,4-D

63. క్రింది వాటిలో సరి కానిది/ కానివి ఏవి

1. టిప్పు సుల్తాన్ చిడుసురును హైదర్ నగర్ గా మార్చారు.
2. టిప్పు సుల్తాన్ 1759 లో మరాట దండ యాత్రలను తిప్పికోట్టి మైసూరు సర్వ సైన్యాద్యక్షుడిగా నియమించబడ్డారు.
3. టిప్పు సుల్తాన్ అసలు పేరు ఫతే ఆలీఖాన్ సాహెబ్.
4. టిప్పు సుల్తాన్ హైదర్ అలీ కుమారుడు.

1.1,2 2.1,2,4 3.2,3,4 4.1,3

64. మొదటి ఆంగ్లే మైసూరు యుద్ధానికి (1767-1769) సంబంధించి క్రింది వాటిలో సరి ఐనది/ అయినవి

1. ఈ యుద్ధం లో భాగంగా ఆర్కాట్ ను స్వాధీనమైనది.
2. ఇది మద్రాస్ సంది లో ముగిసినది.
3. 1769 లో మద్రాస్ సంది జరిగినది.
4. హైదర్ అలీ మద్రాస్ సమీపం లో సాంతోమ్ వరకు విజయాలు సాధించారు.

1.1,2,3 2.1,2,3,4 3.2,3,4 4.1,3,4

65. మూడవ ఆంగ్లే మైసూరు యుద్ధం ఎవరెవరికి మధ్య జరిగినది

1. టిప్పు సుల్తాన్ x కారన్ వాలీస్ 2. టిప్పు సుల్తాన్ x వారెన్ హెస్టింగ్స్
3. టిప్పు సుల్తాన్ x లార్డ్ వెల్లింగ్టన్ 4. టిప్పు సుల్తాన్ x లార్డ్ వెల్లిస్

66. మొదటి సారి సూచనాత్మక ప్రణాళికను ప్రవేశ పెట్టిన దేశం

1. చైనా 2. రష్యా 3. ఇండియా 4. ఫ్రాన్స్

67. మన దేశ ప్రణాళికలు ఈ రకం కు చెందినవి

1. దీర్ఘ కాల 2. స్వల్ప కాల 3. మధ్య కాలిక 4. పై వన్నీ

68. ప్రణాళిక సంఘ అద్యక్షురాలిగా ఇందిరా గాంధీ హయాం లో ప్రవేశ పెట్టిన ప్రణాళికలు క్రింది వాటిలో

1. 3 వ 2. 4వ 3. 5 వ 4. 6 వ
- 1.1,2,3 2.1,2,3,4 3.1,3,4 4.2,3,4

69. క్రింది వాటిని జతపరుచుము

- | | |
|------------------------|---|
| 1.I వ ప్రణాళిక | i. అశోక్ రుద్రా & అరెస్, మాసె |
| 2.II వ ప్రణాళిక | ii. సంతులిత ప్రణాళిక |
| 3.III వ ప్రణాళిక | iii. హరూడ్ - డేమర్ |
| 4.IV వ ప్రణాళిక | iv. నెహ్రూ & మహాల్ నేటిస్ వ్యాహం |
| 1.1-i,2-ii, 3-iii,4-iv | 2. 1-iii,2-iv, 3-ii,4-i 3. 1-iv,2-iii, 3-ii,4-i 4. 1-ii,2-iii, 3-i,4-iv |

70. క్రింది వాటిలో "ఫెగ్గి" ప్రణాళికలు గుర్తించండి.

1. 1951-56 2. 1966-69 3. 1969-74 4. 1974-78

71. క్రింది వాటిలో భిన్నమైనది గుర్తించండి

1. I వ ప్రణాళిక 2. II వ ప్రణాళిక 3. III వ ప్రణాళిక 4. IV వ ప్రణాళిక

72. క్రింది వాటిలో తప్పు అయినది గుర్తించండి

1. వార్షిక ప్రణాళికలు (1960-92) లో నూతన ఆర్థిక సంస్కరణలు ప్రవేశ పెట్టారు.
2. వార్షిక ప్రణాళికలు (1966-69) లో హరిత విప్లవం ప్రారంభం
3. నిరంతర ప్రణాళికలు గాంధీ వ్యాహము ఆధారంగా మొరార్జీ దేశాయ్ గారు ప్రవేశ పెట్టారు.
4. 10 వ పంచ వర్ష ప్రణాళిక ద్వంద వ్యాహం గా ప్రవేశ పెట్టారు.

73. జత పరచండి

- | | | | |
|------------------------|-------------------------|-------------------------|-------------------------|
| 1.శక్తి ప్రణాళిక | i.9 వ ప్రణాళిక | | |
| 2.నిరుద్యోగ నిర్మూలన | ii.8 వ ప్రణాళిక | | |
| 3.LPG నమూనా | iii.6 వ ప్రణాళిక | | |
| 4.వికేంద్రీ కరణ నమూనా | iv.7 వ ప్రణాళిక | | |
| 1.1-i,2-ii, 3-iii,4-iv | 2. 1-iii,2-iv, 3-ii,4-i | 3. 1-iv,2-iii, 3-ii,4-i | 4. 1-iv,2-iii, 3-i,4-ii |

74. 11 వ పంచ వర్ష ప్రణాళిక కు సంబంధించి తప్పు వాఖ్య ను గుర్తించండి

- | | |
|------------------------------------|---|
| 1.సత్వర, సమ్మిళిత వృద్ధి లక్ష్యాలు | 2.విద్యా ప్రణాళిక |
| 3.సాంఘిక సేవలపై తక్కువ వ్యయం | 4.వృద్ధి రేటు లక్ష్యం 9 నుండి 8.1 తగ్గించారు. |

75. క్రింది వాటిలో "సూచనాత్మక" ప్రణాళిక అని దేనికి పేరు

- | | | | |
|-----------------|----------------|-----------------|-----------------|
| 1. 7 వ ప్రణాళిక | 2.8 వ ప్రణాళిక | 3. 9 వ ప్రణాళిక | 4.10 వ ప్రణాళిక |
|-----------------|----------------|-----------------|-----------------|

76.1960 లో వృద్ధి & అభివృద్ధి అనే పదాలు ప్రాచుర్యం కల్పించిన వారు ఎవరు

- | | |
|-----------------------------------|----------------------------|
| 1.శ్రీమతి హిక్ & జోసెఫ్ ముమ్మీతర్ | 2. శ్రీమతి హిక్స్ & కేన్స్ |
| 3.శ్రీమతి జానె రాబిన్ & హిక్స్ | 4.పై వారందరూ. |

77. క్రింది వాటిలో సరి అయిన వాఖ్య ఎంచుకొనుము

- | | | | |
|--|-----------|---------|---------|
| 1.ఆర్థిక వృద్ధి ఉత్పత్తిలో పెరుగుదల మాత్రమే సూచిస్తుంది. | | | |
| 2. ఆర్థికాభివృద్ధి ఉత్పత్తి పెరుగుదల తో పాటు సంస్థాగత మార్పులను తెలుపుతుంది. | | | |
| 3.ఆర్థికాభి వృద్ధి పరిణాత్మక & గుణాత్మకమైనది. | | | |
| 4. ఆర్థిక వృద్ధి పరిణాత్మక & గుణాత్మకమైనది. | | | |
| 1. 1,2,3 | 2.1,2,3,4 | 3.2,3,4 | 4.1,2,4 |

78. క్రింది వాటిలో సరి అయిన దానిని ఎంచుకోండి.

- | | | | |
|--|-----------------------|----------------------|---------------------|
| 1. ఆర్థిక వృద్ధికి ప్రభుత్వ జోక్యం అవసరం లేదు. | | | |
| 2. ఆర్థికాభి వృద్ధి కి ప్రభుత్వ జోక్యం అవసరం. | | | |
| 1.1 మాత్రమే సరి ఐనది. | 2.2 మాత్రమే సరి ఐనది. | 3.పై రెండూ సరి ఐనవి. | 4.1, 2 రెండూ తప్పు. |

79.UNO వారి ప్రకారం దేశ అభివృద్ధి కి సంబంధించి ఎన్ని రకాల వర్గీకరణ చేస్తుంది.

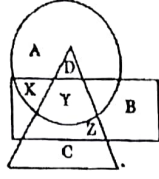
- | | | | |
|-----|-----|-----|-----|
| 1.2 | 2.3 | 3.4 | 4.5 |
|-----|-----|-----|-----|

80. ఆర్థికాభి వృద్ధి ఒక బహుముఖమైన అభివృద్ధి ప్రక్రియ

- | | | | |
|---------------------|-------------------|-----------|-------------------|
| 1. గున్నార్ మిర్డాల | 2.కోలిన్ క్లార్క్ | 3.ఘంషేతర్ | 4.మైఖేల్ పి.తోడర్ |
|---------------------|-------------------|-----------|-------------------|

సూచనలు (81-100) : ఈ చిత్రంలోని వృత్తం కాలేజీ ప్రాఫెసర్లను, త్రికోణం శస్త్ర చికిత్సా నిపుణులను మరియు దీర్ఘ చతురస్రం వైద్య నిపుణులను సూచిస్తుంది. కింది ప్రశ్నలకు జవాబులు కనుక్కోండి.

81. శస్త్ర చికిత్సా నిపుణులు కూడా అయినటువంటి కాలేజీ ప్రాఫెసర్లను ఏది సూచిస్తుందంటే



- 1) A 2) B
3) C 4) D

82. కాలేజీ ప్రాఫెసర్లు కాకుండా, వైద్య నిపుణులు కూడా అయినటువంటి శస్త్ర చికిత్సా నిపుణులను ఏది సూచిస్తుందంటే

- 1) X 2) Y 3) Z 4) D

83. వైద్య నిపుణులు కూడా అయినటువంటి కాలేజీ ప్రాఫెసర్లను ఏది సూచిస్తుందంటే

- 1) Y 2) Z 3) X 4) A

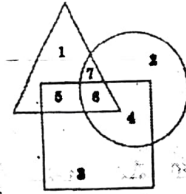
84. 'B' దేనిని సూచిస్తుందంటే

- 1) వైద్య నిపుణులు కాని కాలేజీ ప్రాఫెసర్లను
2) శస్త్ర చికిత్సా నిపుణులు కూడా అయినటువంటి
3) వైద్య, శస్త్ర చికిత్సా నిపుణులు కాని కాలేజీ ప్రాఫెసర్లను
4) కాలేజీ ప్రాఫెసర్లు లేదా శస్త్రచికిత్సా నిపుణులు కూడా కాని వైద్య నిపుణులను

85. 'C' దేనిని సూచిస్తుందంటే

- 1) కాలేజీ ప్రాఫెసర్లను 2) వైద్య నిపుణులను
3) శస్త్ర చికిత్సా నిపుణులను
4) వైద్య, శస్త్ర చికిత్సా నిపుణులను

(86-90) ప్రశ్నలకు సూచనలు :



- Δ → కర్మాగారంలో పనిచేసేవారు
○ → యూనియన్ సభ్యులు
□ → శ్రమించి పనిచేసేవారు

86. కర్మాగారంలో పనిచేసేవారిలో శ్రమించి పనిచేసే యూనియన్ సభ్యులు

- 1) 5 2) 4 3) 3 4) 6

87. శ్రమించి పని చేసేవారూ కాకుండా మరియు యూనియన్ సభ్యులూ కాని కర్మాగారంలో పనిచేసేవారు

- 1) 3 2) 2 3) 1 4) 7

88. శ్రమించి పనిచేసేవారు కాకుండా, యూనియన్ సభ్యులు మరియు కర్మాగారంలో పని చేసేవారు

- 1) 6 2) 5 3) 4 4) 7

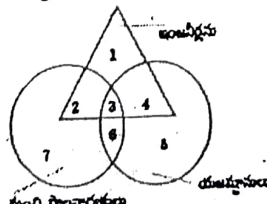
89. యూనియన్ సభ్యులు కాకుండా, కర్మాగారంలో శ్రమించి పనిచేసేవారు

- 1) 3 2) 2 3) 5 4) 6

90. కర్మాగారంలో పనిచేసేవారు కాకుండా, శ్రమించి పనిచేసే యూనియన్ సభ్యులు కూడా ఉన్నారు. పైన వటంలో, ఏ అంకె వీరిని సూచిస్తుంది

- 1) 3 2) 2 3) 1 4) 4

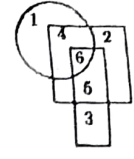
91. ఈ కింది ఇవ్వబడిన వెన్ రేఖా చిత్రం నందు యజమానులు మరియు మంచి పరిపాలనార్హులు కాని ఇంజనీర్లను సూచించునది ఏది



- 1) 1 2) 2 3) 3 4) 4

సూచనలు : (92-96) క్రింది రేఖా చిత్రాన్ని పరిశీలించి

- ప్రశ్నలకు సమాధానములు ఇవ్వండి
○ = యూనియన్ సభ్యులుగా ఉన్నప్పటి వారు
□ = బాగా కష్టించి పని చేసే పనివారు
▭ = అనుభవం కలిగిన పనివారు



92. యూనియన్లో సభ్యులుగా లేని, బాగా కష్టించి పనిచేసే పనివారిని అనుభవం కలిగిన పని వారిని ఏది సూచిస్తుంది

- 1) 4 2) 3 3) 2 4) 5

93. యూనియన్లో సభ్యులై ఉండి, అనుభవం కలిగి వుండి కష్టించి కూడా పని చేయగల వారిని ఏది సూచిస్తుంది?

- 1) 5 2) 3 3) 6 4) 4

94. యూనియన్లో సభ్యులు కాని, అనుభవం కలిగిలేని, బాగా కష్టించి పని చేసే పనివారిని ఏ సంఖ్య సూచిస్తుంది?

- 1) 1 2) 2 3) 5 4) 3

95. 4 అంకె ప్రాతినిధ్యం వహించేది?

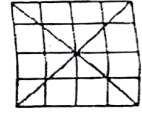
- 1) అనుభవం లేని, యూనియన్లో సభ్యులైన
2) యూనియన్ సభ్యుల్ని
3) యూనియన్లో సభ్యులుగా కాని, అనుభవం కలిగి ఉండి బాగా కష్టించి పని చేసేవారిని
4) అనుభవం కలిగి, కష్టించి పని చేయగలిగి యూనియన్లో సభ్యుల్ని

96. యూనియన్లో సభ్యులు కాని కష్టించి పని చేయలేని, అనుభవం కలిగివున్న పనివారిని ప్రాతినిధ్యం వహించేది

- 1) 3 2) 2 3) 1 4) 4

97. ఈ క్రింది చిత్రంలో ఎన్ని త్రికోణములు ఉన్నాయి

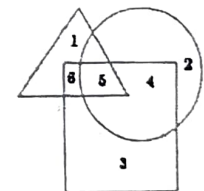
- 1) 48 2) 44
3) 40 4) 36



సూచనలు (98-100) :

ఈ క్రింది రేఖాచిత్రాన్ని చూసి సమాధానాలు కనుక్కోండి.

- △ = అర్జులైన వైద్యులు
□ = అనుభవజ్ఞులైన వైద్యులు
○ = గ్రామాల్లో పనిచేస్తున్న వైద్యులు



అర్జులై, అనుభవం గలిగి గ్రామాల్లో పనిచేస్తున్న వైద్యుల్ని సూచించేది?

- 1) 2 2) 6 3) 4 4) 5

అర్జులై, అనుభవం గలిగి గ్రామాల్లో బయట పనిచేస్తున్న వైద్యుల్ని సూచించేది?

- 1) 5 2) 4 3) 6 4) 3

అనుభవం ఉండి, అర్జులైన వైద్యులు గ్రామాల్లో పనిచేస్తున్నారు. వారిని సూచించేది?

- 1) 4 2) 3 3) 2 4) 5

ALL THE VERY BEST
TS SC STUDY CIRCLE :
MAHABUBNAGAR