



**TS SC STUDY CIRCLE: MAHABUBNAGAR**  
**MOCK TEST- 5**

**Name:**  
**Max. Marks: 100**  
**Subject: GS**

**Roll Number:**  
**Date :09.07.2023**

1. క్రింది వాటిలో జాతీయాదాయం లోకి తీసుకోనివి ఏవి

- |                      |                     |           |         |
|----------------------|---------------------|-----------|---------|
| 1.మాధ్యమిక వస్తువులు | 2.బదిలీ చెల్లింపులు | 3.పన్ను   | 4.ఇటుక  |
| 1.1,2                | 2.1,2,3             | 3.1,2,3,4 | 4.1,2,4 |

2. క్రింది వాటిలో జాతీయ భావనకు సంబంధించి సరి అయినది

- |                     |                       |
|---------------------|-----------------------|
| 1. పొదుపులు + వేతనం | 2. పొదుపులు + వ్యయాలు |
| 3. వ్యయాలు + వేతనం  | 4. వేతనం - పొదుపులు   |

3. ప్రస్తుత ధరలలో తలసరి ఆదాయం లెక్కిస్తే గణన చేస్తే

- |                    |                            |
|--------------------|----------------------------|
| 1. నిజ తలసరి ఆదాయం | 2. వాస్తవ తలసరి ఆదాయం      |
| 3.తలసరి ఆదాయం      | 4. నామమాత్రపు తలసరి ఆదాయము |

4. విలువ జోడింపు & జాబితా పద్ధతి అని ఏ పద్ధతి ని అంటారు

- |                         |                           |
|-------------------------|---------------------------|
| 1. ఆదాయ మదింపు పద్ధతి   | 2. ఉత్పత్తి మదింపు పద్ధతి |
| 3. వ్యయాల మదింపు పద్ధతి | 4. వైవస్నీ                |

5. ప్రస్తుత మన దేశం లో దేనిని జాతీయాదాయం కి సంబంధించి వృద్ధి రేటు గా పరిగణిస్తున్నాయి.

- |                       |                          |
|-----------------------|--------------------------|
| 1. స్థిర ధరలలో GDPmp  | 2. ప్రస్తుత ధరలలో GDPmp  |
| 3. స్థిర ధరలలో GDP FC | 4. ప్రస్తుత ధరలలో GDP FC |

6. క్రింది వాటిలో సరి అయిన దానిని ఎంచుకోనుము

- ఉత్పత్తి మదింపు పద్ధతి లో స్వయముగా వినియోగం లెక్కలోకి తీసుకుంటారు.
  - ఉత్పత్తి మదింపు పద్ధతి లో గృహిణి సేవలు లెక్కలోకి తీసుకోరాదు.
  - ఉత్పత్తి మదింపు పద్ధతి లో ఒకే వస్తువు రెండు సార్లు లెక్కించాలి.
  - ఉత్పత్తి మదింపు పద్ధతి లో ధర మరియు వస్తు పరిణామం ఆధారంగా లెక్క కడుతారు.
- |       |         |           |         |
|-------|---------|-----------|---------|
| 1.1,2 | 2.1,2,3 | 3.1,2,3,4 | 4.1,2,4 |
|-------|---------|-----------|---------|

7. ఆదాయ మదింపు పద్ధతి కి సంబంధించి సరి అయిన వివరణ ఎన్నుకోండి

- ఈ పద్ధతి లో స్వయం వినియోగ విలువ లెక్కిస్తారు
- ఈ పద్ధతి లో సెకండ్ హ్యాండ్ వస్తువులపై వచ్చే ఆదాయం కలపాలి.
- మొదటిది సరి అయినది, దానికి రెండవది కూడా సరి అయిన వివరణ.
- మొదటిది సరి అయినది. కాని రెండవది తప్పు వివరణ.

8. వ్యయాల మదింపు కు సంబంధించి సరి అయిన వివరణ

- ఈ పద్ధతి లో అంతిమ వస్తువుల వ్యయాలు లెక్కలోకి తీసుకుంటారు.
- ఈ పద్ధతి లో మధ్యంతర వస్తువులపై చేసే వ్యయం లెక్క లోకి తీసుకుంటారు.
- ఈ పద్ధతి లో సెకండ్ హ్యాండ్ వస్తువులపై చేసే వ్యయం లెక్క లోకి తీసుకుంటారు.
- బదిలీ చెల్లింపు పై చేసే వ్యయం లెక్కిస్తారు.

9. కింది వానిలో ఆధునిక పద్ధతి

- |                         |                           |
|-------------------------|---------------------------|
| 1. ఆదాయ మదింపు పద్ధతి.  | 2. ఉత్పత్తి మదింపు పద్ధతి |
| 3. వ్యయాల మదింపు పద్ధతి | 4. వైవస్నీ                |

10. జాతీయాదాయం = బాటకం + వేతనం + వడ్డీ + లాభాలను

- |                        |                           |                         |            |
|------------------------|---------------------------|-------------------------|------------|
| 1. ఆదాయ మదింపు పద్ధతి. | 2. ఉత్పత్తి మదింపు పద్ధతి | 3. వ్యయాల మదింపు పద్ధతి | 4. వైవస్నీ |
|------------------------|---------------------------|-------------------------|------------|

11. ప్రస్తుత ధరలలో 2022-23 తలసరి ఆదాయం అంచనా

1. 1,72,100 రూ.                      2. 1,72,000 రూ.                      3. 1,73,000 రూ.                      4. 1,74,000 రూ.

12. జాతీయాదాయం అంచనాలకు సంబంధించి 2022-23 కి సంబంధించి స్థిర ధరల వద్ద GDP

1. 2,73,04,767 కోట్లు                      2. 2,72,03,767 కోట్లు                      3. 1,47,12,593 కోట్లు                      4. 1,33,40,445 కోట్లు

13. ప్రస్తుత GDP లో రంగాల వారి ప్రకారం రుణాలను ఆరోహణ క్రమం లో అమర్చండి

1. సేవారంగం                      2. వ్యవసాయ రంగం                      3. పారిశ్రామిక రంగం                      4. ఉద్యోగ రంగం  
1.1,2,3                      2.1,2,3,4                      3.2,3,4                      4.1,3,2

14. IMF ప్రకారం 2022-23 లో GDP వృద్ధి రేటు

1.6.8                      2.5.9                      3.6.3                      4.6

15. కేంద్ర ఆర్థిక మంత్రిత్వ శాఖ ప్రకారం 2023-24 కి భారత దేశ GDP వృద్ధి రేటు లక్ష్యం ఎంత ఉండవచ్చునని నిర్ణయించారు.

1.6 to 6.8                      2.7 to 7.5                      3.8 to 8.5                      4.9 to 9.5

16. తెలంగాణ లో అత్యధిక గ్రామ పంచాయితీలు, మండలాలు గల జిల్లా

1. నల్గొండ                      2. యాదాద్రి భువన గిరి                      3. భద్రాద్రి కొత్త గూడెం                      4. జయశంకర్ భూపాలపల్లి

17. నల్గొండ జిల్లా లోని చిల్డ్రెన్ ప్రభావిత ప్రాంతాలకు తాగు నీటి సరఫరా చేయు ప్రాజెక్టు ని గుర్తించండి

1. కోయల్ సాగర్ ఎత్తిపోతల పథకం                      2. కల్యకుర్తి ఎత్తిపోతల పథకం  
3. రాజీవ్ భీమా ఎత్తి పోతల పథకం                      4. దేవాదుల ఎత్తిపోతల పథకం

18. ప్రపంచం లో ప్రత్తి ని మొట్ట మొదటగా పండించింది ఎవరు

1. మెసపటోమియా వారు                      2. సింధూ నాగరికత ప్రజలు  
3. ఈజిప్టు వారు                      4. చైనీయులు

19. గిరిజన పిల్లలకు ఆహార నాణ్యతను అంచనా వేయడానికి ఏ ఐ యంత్రాన్ని ఏ రాష్ట్రం ఏర్పాటు చేస్తుంది.

1. మిజోరాం                      2. అస్సాం                      3. కేరళ                      4. మహారాష్ట్ర

20. హెలికాప్టర్ ఫౌండేషన్ యొక్క 29 వ ఆర్థిక స్వేచ్ఛా సూచికలో భారత దేశం ఏ ర్యాంక్ సాధించింది

1.128 వ                      2.129 వ                      3.130 వ                      4.131 వ

21. మిషన్ గగన్ యాన్ కోసం సిస్టం డెమాన్ స్ట్రెజన్ మోడల్ ను ఏ సంస్థ విజయ వంతం గా పరీక్షించింది

1. DRDO                      2. SAARC                      3. NASA                      4. ISRO

22. అర చేతిలో ఈథర్ ద్రావణం పోసిన చల్లగా ఉండుటకు కారణం

1. ఇది చల్లని ద్రావణం కనుక                      2. భాష్పీభవనం చెందుతుంది  
3. చర్మం లోని రంధ్రాలను చేరుతుంది                      4. అర చేతిలో కందెన గా మారడం వలన

23. కొండ ప్రాంతం లో వచ్చే వర్షపాతాలను ఏ పేరుతో పిలుస్తారు

1. ఓరో గ్రాఫిక                      2. ఫాంటల్                      3. తుఫాన్లు                      4. సాంప్రదాయత

24. ఈస్టిండియా కంపెనీ రాయబారిగా 1608 సంవత్సరం లో జహాంగీర్ ఆస్థానాన్ని సందర్శించింది.

1. సర్ థామస్ రో                      2. హాకిన్స్  
3. జాన్ సుర్మాన్                      4. ఫ్రాన్సిస్ డిసోజా

25. హైదరాబాద్ నగర ప్రధాన ఆర్కిటెక్ట్ గా ఈ క్రింది వారిలో ఎవరిని గుర్తించ వచ్చు.

1. మీర్ మహమ్మద్ మోమీన్ ఆస్థాబాది  
2. ఇబ్న్ - ఎ - బాతూన్  
3. మీర్ ఫజల్లా  
4. చౌదరి రాజయ్య

26. భూ మధ్య రేఖ కు సమీపం లో ఉన్న ప్రాంతం ఏది

1. కన్యా కుమారి.                      2. గ్రేట్ నికోబార్                      3. ఇందిరా పాయింట్                      4. అనై ముడి

27. ఈ క్రింది వాటిలో సరైన దానిని/ వాటిని గుర్తించండి

1. సింధూ నాగరికత భూభాగాన్ని పర్షియన్లు "మేలువ" అని పిలుస్తారు.
  2. భారత దేశం లో 16 రాష్ట్రాలు అంతర్జాతీయ సరిహద్దును కలిగి ఉన్నాయి.
  3. ఇండియా - బంగ్లా దేశ సరిహద్దును మైదాన సరిహద్దు అని పిలుస్తారు.
  4. తూర్పు తీరం లో తక్కువ తీర రేఖ గల రాష్ట్రము ఒరిస్సా.
1. 1 మాత్రమే      2. 3 & 4      3. 1,2 & 3      4. 1 & 4

28. 82 ½ ° తూర్పు రేఖాంశం ఈ క్రింది ఏ ప్రాంతం గుండా ప్రయనించదు

1. రేవా      2. నాగపూర్      3. టైకుంటపూర్      4. కోరాపుట్

29. పాకిస్తాన్ లో సరిహద్దు లేని రాష్ట్రం

1. గుజరాత్      2. రాజస్థాన్      3. పంజాబ్      4. హర్యానా

30. chicken's neck region అని పిలువబడే సీలిగురి ఏ రాష్ట్రము లో ఉంది

1. పశ్చిమ బెంగాల్      2. సిక్కిం      3. అస్సాం      4. త్రిపుర

31. విస్తీర్ణం లో 3 వ పెద్ద రాష్ట్రం ఏది

1. మధ్య ప్రదేశ్      2. ఉత్తర ప్రదేశ్      3. మహారాష్ట్ర      4. గుజరాత్

32. ఈ క్రింది ఏ నది కర్కాటక రేఖా వద్ద ఖండించబడుతుంది

1. లూనీ      2. నర్మద      3. మహా నది      4. జలా

33. సరి కానిది గుర్తించండి

1. భారత దేశం 7 దేశాలలో భూ సరిహద్దును కలిగి ఉంది.
2. బీహార్, టిబెట్ సరిహద్దును కలిగి ఉంది
3. భారత దేశ విస్తీర్ణం 3.28 మిలియన్ చదరపు కిలోమీటర్లు
4. భారత దేశ తీర రేఖ పొడవు 7516.6 km

34. భూటాన్ లో సరిహద్దు కల రాష్ట్రాలు ఏవి

1. అస్సాం, మేఘాలయ, పశ్చిమ బెంగాల్, సిక్కిం
2. పశ్చిమ బెంగాల్, సిక్కిం, అస్సాం మరియు బీహార్
3. పశ్చిమ బెంగాల్, సిక్కిం, అస్సాం, అరుణాచల ప్రదేశ్
4. పశ్చిమ బెంగాల్, సిక్కిం, అస్సాం.

35. భారత దేశం యొక్క ఉత్తర చివరి పర్వతాలు

1. జుమ్లర్ పర్వతాలు      2. లడఖ్ పర్వతాలు      3. సియాచిన్      4. కారకోరం పర్వత శ్రేణి

36. సరి కాని జతను గుర్తించండి

1. కారకోరం పర్వతాలు - లడఖ్
2. నీలగిరి పర్వతాలు - తమిళ నాడు
3. పాపూంబం పర్వతాలు - అరుణా చల ప్రదేశ్
4. మెక్ మోహాన రేఖ - భూటాన్

37. పాంగాన్ సరస్సు ఎక్కడ కలదు

1. జమ్మూ కాశ్మీర్      2. లడఖ్      3. హిమాచల ప్రదేశ్      4. సిక్కిం

38. నేపాల్ లో సరిహద్దు లేని రాష్ట్రం ఏది

1. పశ్చిమ బెంగాల్      2. సిక్కిం      3. ఉత్తర ప్రదేశ్      4. హిమాచల ప్రదేశ్

39. భారత ఉప ఖండం లో సభ్య దేశం కానిది

1. భూటాన్      2. మయన్మార్      3. మాల్దీవులు      4. నేపాల్

40. తీర రేఖ గల రాష్ట్రాలను పొడవు ఆధారంగా ఎక్కువ నుండి తక్కువకు గుర్తించండి

1. గుజరాత్, ఆంధ్ర ప్రదేశ్, తమిళ నాడు, మహారాష్ట్ర



2. ఆంధ్ర ప్రదేశ్, గుజరాత్, తమిళ నాడు, మహారాష్ట్ర
3. గుజరాత్, మహారాష్ట్ర, ఆంధ్ర ప్రదేశ్, తమిళ నాడు
4. గుజరాత్, ఆంధ్ర ప్రదేశ్, మహారాష్ట్ర, తమిళ నాడు

41. సరి అయిన జతను గుర్తించండి

1. భారత ప్రాదేశిక జలాలు - 12 నాటికల్ మైళ్ళు
2. భారత అనుబంధ జలాలు - 24 నాటికల్ మైళ్ళు
3. ప్రత్యేక ఆర్థిక మండలి - 200 నాటికల్ మైళ్ళు
4. పైవన్నీ సరి ఐనవి

42. ఈ క్రింది రాష్ట్రాల్లో ఎక్కువ రాష్ట్రాలలో సరిహద్దు గల రాష్ట్రం ఏది

1. అస్సాం
2. మహారాష్ట్ర
3. మధ్య ప్రదేశ్
4. తెలంగాణ

43. ఈ క్రింది వాటిని పరిశీలించండి

1. భారత భూ సరిహద్దు 7 దేశాలతో కలదు
2. భూ సరిహద్దు మొత్తం పొడవు 15,106.7 కి.మీ
3. సిక్కిం రాష్ట్రం నేపాల్, భూటాన్ తో సరిహద్దును కలిగి ఉంటుంది
4. తీర రేఖ పొడవు 7516.6 కి.మీ

సరికానిది గుర్తించండి

1. 2 మాత్రమే
2. 3 మాత్రమే
3. 4 మాత్రమే
4. పైవన్నీ సరైనవి.

44. భారత దేశ దక్షిణ చివరి ప్రాంతం ఏది

1. ఇందిరా పాయింట్
2. ఇండియా పాయింట్
3. కన్యాకుమారి
4. నీలగిరి పర్వతాలు

45. భారత దేశ పశ్చిమ చివరి ప్రాంతం

1. రాన్ ఆఫ్ కచ్
2. సర్ క్రిక్
3. గహార్ మతి
4. ద్వారక

46. ఒక వేల అత్యవసర పరిస్థితి వస్తే ఈ క్రింది ఎవరు ప్రాథమిక హక్కులను తీసేసే అధికారం ఉంటుంది

1. రాష్ట్రపతి
2. ప్రధాన మంత్రి
3. సుప్రీం కోర్టు ప్రధాన న్యాయమూర్తి
4. హై కోర్టు

47. ఆర్థికల్ 19 దేనిని సూచిస్తుంది

1. స్వేచ్ఛా మరియు స్వాతంత్ర్యపు హక్కు
2. మత స్వాతంత్ర్యపు హక్కు
3. పీడనాన్ని నిరోధించే హక్కు
4. ఏది కాదు

48. క్రింది వాని లో సరి ఐన జత/ జతలు ఏవి

1. అస్పృశ్యత నిషేధం : ప్రకరణ 17
2. బాల కార్మిక నిషేధం : ప్రకరణ 24
3. వెట్టి దాకీర్ నిషేధం : ప్రకరణ 23

1. 1 మాత్రమే
2. 1,2 మాత్రమే
3. 3 మాత్రమే
4. 1,2,3 సరైనవి

49. ప్రాథమిక హక్కులను సవరించే అధికారం ఏ సవరణ చేయబడింది.

1. 24 వ
2. 44 వ
3. 42 వ
4. 55 వ

50. ప్రాథమిక హక్కులు "రాజ్యాంగానికి శాశ్వతత్యాన్ని కలిగించే లంగరు" అని వర్ణించిన వారు

1. పి.బి. గజేంద్ర గడ్కర్
2. N.A. ఫాల్గీ వాలా
3. బి.ఎన్. రావు
4. కృపలానీ

51. ప్రాథమిక హక్కులను నిర్ధారించటానికై జే.బి. కృపాలాని అద్యక్షత 9 మంది సభ్యులలో లేని వారు

1. అమృత్ కౌర్
2. డా.బి.ఆర్.అంబేద్కర్
3. మౌలానా ఆజాద్
4. విజయ లక్ష్మి వైదల్

52. చంపం దొరై రాజన్ vs స్టేట్ ఆఫ్ మద్రాస్ కేసు కు సంబంధించి సరి కానిది

1. ఇది 1951 లో జరిగిన సంఘటన
2. ఇది మద్రాస్ వైద్య విద్య, ఇంజనీరింగ్ కళాశాలకు సంబంధించి సీట్ల విషయం

3. దీనికి సుప్రీం కోర్టు కూడా తీర్పు విషయమై, రాజ్యాంగ రీత్యా చెల్లదని కొట్టి వేసింది.

4. ఈ పరిస్థితుల్లో కేంద్రం మొదటి సవరణ ద్వారా, క్లాజ్ 3 ని చేర్చింది.

53. ఇందిరా సహాని కేసుని మరో వ్యవహారించే పేరు

1. రిజర్వేషన్ కమిషన్ కేసు
2. మండల్ కమిషన్ కేసు
3. విద్యా విధాన కేసు
4. వేద కమిషన్ కేసు

54. 103 వ రాజ్యాంగ సవరణ ఈ క్రింది ఏ విషయం కు ప్రాతిపదిక

1. అగ్ర వర్గ పేదలు
2. నిమ్న రాజకీయ నాయకులు
3. సంఘ విద్వేహ చర్యలను రూపు మపుట
4. పైవన్నీ

55. క్రింది వాటిలో సరి కాని జత

1. ప్రకరణ 19 (1) (A) : వాక్, భావ ప్రకటనా స్వాతంత్ర్యం
2. ప్రకరణ 19 (1) (B) : శాంతియుతంగా ఆయుధాలు లేకుండా సమావేశం జరుపుకునే స్వాతంత్ర్యం
3. ప్రకరణ 19 (1) (C) : సంస్థలు, సంఘాలు ఏర్పాటు చేసుకునేందుకు స్వాతంత్ర్యం
4. ప్రకరణ 19 (1) (D) : ఏ వృత్తి నైనా, వ్యాపారాన్నైనా చేసుకునే స్వాతంత్ర్యం

56. క్రింది వాటిలో సరి కాని జత

1. కనీస వేతనాల చట్టం : 1976
2. అనైతిక కార్య కలాపాల నిషేధ చట్టం : 1978
3. సమాన పనికి సమాన వేతన చట్టం : 1975
4. వెట్టి చాకిరి నిరోధక చట్టం : 1976

57. క్రింది వాటిలో సరి ఐన జత/ జతలు ఏవి

1. ఎం.సి. మెహతా vs తమిళ నాడు 1997
  2. దీనా vs యూనియన్ ఆఫ్ ఇండియా కేసు 1990
  3. విశాల్ జీత్ vs యూనియన్ ఆఫ్ ఇండియా కేసు 1990
  4. సంజీత్ రాయ్ vs స్టేట్ ఆఫ్ రాజస్థాన్ కేసు 1984
1. 1,2 సరైనవి.    2.1 మాత్రమే    3.1,3 సరైనవి    4.1,2,3,4 సరైనవి

58. మాండమన్ అనగా

1. ఎవరైనా వ్యక్తులు కానీ, ప్రభుత్వం కనీ ఎవరినైనా బంధించి నప్పుడు ఆ నిర్బంధానికి గల కారణాలు తెలుసుకోవడానికి 24 గంటల్లో న్యాయ స్థానము ముందు హాజరు పరుచుట.
2. చట్ట రీత్యా ఒక వ్యక్తి ని కాని, సంస్థ ని కాని తన విద్యుక్త భాద్యతను సక్రమంగా నిర్వహించకపోతే నిర్వహించే ప్రక్రియ
3. క్రింది న్యాయ స్థానాలు తమకు అధికారం లేని కేసులను పై కోర్టులకు పంపి ప్రక్రియ
4. పైవన్నీ సరి ఐనవి.

59. భారత దేశం లో ఎక్కడైనా వర్తకం వాణిజ్యం చేయడానికి స్వచ్ఛ వుంది అని తెలిపి ప్రకరణ

1. ప్రకరణ 320
2. ప్రకరణ 301
3. ప్రకరణ 451
4. ప్రకరణ 265

60. మతాన్ని ఆచరించడమంటే కేవలం మతాన్ని విశ్వసించడమే కాకుండా మత ఆచారాలు అమలు జరుపుకోవడం కూడా అని సుప్రీమ్ కోర్టు

తీర్పు ఇచ్చిన కేసు

1. ప్రానిన్ లోస్ vs స్టేట్ ఆఫ్ మధ్య ప్రదేశ్
2. చంద్రి మదాస్ vs రైల్వే బోర్డు చైర్మన్
3. లూయిస్ డి రిదిట్ vs యూనియన్ ఆఫ్ ఇండియా
4. కూపర్ vs యూనియన్ ఆఫ్ ఇండియా

61. క్రింది వాటిని పరిశీలించుము

1. ప్రకరణ 32 (1) ప్రకారం ఒక వ్యక్తి తన ప్రాథమిక హక్కులకు భంగం కలిగినప్పుడు రక్షణ కల్పించమని సుప్రీం కోర్టును ఆశ్రయించవచ్చు.
2. ప్రకరణ 32 (2) ప్రకారం ప్రాథమిక హక్కుల అమలు నిమిత్తమై సుప్రీం కోర్టు 5 రకాల రిట్లను జారీ చేయవచ్చు.



3. ప్రకరణ 32 (3) ప్రకారం సుప్రీం కోర్టు అధికారాలను మరేదైనా కోర్టుకు సంక్రమించ చేయుటకు చట్టం చేసే అధికారం పార్లమెంటు కు కలదు.
4. ప్రకరణ 32 (4) ప్రకారం రాజ్యాంగం లో పేర్కొన్నట్లు తప్ప ఈ ప్రకరణ ద్వారా ఇచ్చిన హక్కులను సస్పెండ్ చేయాలి.

పై వాటిలో సరి కానిది/ కానివి ఏవి

- |       |       |     |     |
|-------|-------|-----|-----|
| 1.1,2 | 2.2,3 | 3.3 | 4.4 |
|-------|-------|-----|-----|

62. హక్కులకే హక్కు అని దేనిని వ్యవహరిస్తారు

1. మత స్వాతంత్ర్యపు హక్కు
2. రాజ్యాంగ పరిహారపు హక్కు
3. పీడనాన్ని నిరోధించే హక్కు
4. పైవేవి కావు

63. ఈ క్రింది వానిలో జాతీయ గీతం కేసు కు సంబంధించింది

- |  |   |
|--|---|
| 1. ఎస్. ఆర్. బొమ్మై vs స్టేట్ ఆఫ్ కేరళ | 2. రతీ లాల్ vs స్టేట్ ఆఫ్ బొంబాయి         |
| 3. బిజ్ ఇమాన్యుయేల్ vs స్టేట్ ఆఫ్ కేరళ | 4. ఇస్మాయిల్ ఫారుఖి vs యూనియన్ ఆఫ్ ఇండియా |

64. 2006 లో ఏ రాష్ట్ర ముఖ్య మంత్రి అన్ని కులాల వారు అర్హులు కావచ్చని ఉత్తర్వులు జారీ చేసారు

- |         |              |                  |           |
|---------|--------------|------------------|-----------|
| 1. కేరళ | 2. తమిళ నాడు | 3. ఉత్తర ప్రదేశ్ | 4. బిహార్ |
|---------|--------------|------------------|-----------|

65. ప్రకరణ 15 ఈ క్రింది విషయాన్నీ సూచించును

1. జాతి, మత, కుల, లింగ లేక జన్మ స్థల ఆధారంగా రాజ్యం ఏ వ్యక్తి పట్ల కుడా వివక్ష చూపకూడదు.
2. కేవలం జాతి, లింగ ఆధారంగా ఏ వ్యక్తి పట్ల కుడా వివక్ష చూపకూడదు.
3. కేవలం లింగ ఆధారంగా ఏ వ్యక్తి పట్ల కుడా వివక్ష చూపకూడదు.
4. కేవలం జాతి ఆధారంగా ఏ వ్యక్తి పట్ల కుడా వివక్ష చూపకూడదు.

66. సమానత్వపు హక్కును అమలు పరిచే సందర్భం లో ఈ క్రింది ఏయే విషయాలను పరిగణ లోకి తీసుకోవాలి

1. ప్రత్యేక జనాభా వర్గాలను ప్రాంతాలను గుర్తించాలి.
2. దేశ స్వార్థ భౌమత్వం, సమగ్రత, శాంతి భద్రతలు, నైతిక విలువల పరి రక్షణకు భంగం కలుగకుండా మినహాయింపు ఇవ్వాలి.
3. దేశ ప్రయోజనాలను దృష్టి లో ఉంచు కోవాలి
4. హేతు బద్ధత ను పరిగణ లోకి తీసుకోవాలి.

పై వాటిని పరిశీలించి క్రింది సరి అయిన వాటిని ఎంచుకోండి

- |                     |                         |                      |                  |
|---------------------|-------------------------|----------------------|------------------|
| 1. 1,2,3 సరి అయినవి | 2. 1,2 మాత్రమే సరి వనవి | 3. పై వన్నీ సరి వనవి | 4. 3,4 సరి వనవి. |
|---------------------|-------------------------|----------------------|------------------|

67. ప్రకరణ 361 ప్రకారం సరి కాని విషయం

1. రాష్ట్ర పతి, గవర్నర్ లు వారి అధికారాల విధుల నిర్వహణ సమయంలో ఏ న్యాయ స్థానానికి జవాబు దారి కాదు.
2. రాష్ట్ర పతి, గవర్నర్ లు పదవి లో ఉండగా వీరిపై క్రిమినల్ కేసులు పెట్టడానికి వీలేదు.
3. రాష్ట్ర పతి, గవర్నర్ ల పదవీ కాలంలో ఏ న్యాయ స్థానం శిక్ష విధించేందుకు ఆదేశాలు జారీ చేయరాదు.
4. 6 నెలల ముందస్తు నోటిసుతో మాత్రం వారి పై సీవిల్ కేసులు పెట్ట వచ్చు.

68. ప్రపంచం లో మొట్ట మొదటి సారి ప్రణాళికలు ప్రవేశ పెట్టిన దేశం

- |         |       |           |             |
|---------|-------|-----------|-------------|
| 1. USSR | 2. UK | 3. ఇండియా | 4. ఫ్రాన్స్ |
|---------|-------|-----------|-------------|

69. రష్యలో ఏ పేరు తో ప్రణాళికలు ప్రవేశ పెట్టారు

- |             |                   |                         |                |
|-------------|-------------------|-------------------------|----------------|
| 1. ఫ్రాన్స్ | 2. ది గోస్ ప్లాన్ | 3. కమ్యూనిక్స్ ప్లాన్స్ | 4. పైవేవి కావు |
|-------------|-------------------|-------------------------|----------------|

70. భారత దేశ ప్రణాళిక బడ్జెట్ ఆర్థిక వ్యవస్థ గ్రంథ రచయిత

- |                      |                     |                       |                     |
|----------------------|---------------------|-----------------------|---------------------|
| 1. జవహర్ లాల్ నెహ్రూ | 2. దాదా బాయి నౌరోజీ | 3. వి.కె.ఆర్.వి. రావు | 4. ఎం.విశ్వేశ్వరయ్య |
|----------------------|---------------------|-----------------------|---------------------|

71. 1944 లో డిపార్ట్మెంట్ ఆఫ్ ప్లానింగ్ & డెవలప్మెంట్ చైర్మన్ ఎవరు

- |                 |             |           |                |
|-----------------|-------------|-----------|----------------|
| 1. కే సి నియోగి | 2. ఏ. దలాల్ | 3. నెహ్రూ | 4. మహర్ నోటిస్ |
|-----------------|-------------|-----------|----------------|

72. క్రింది వాటిలో సరైన వాటిని గుర్తించండి.

1. ప్లానింగ్ అడైవ్‌సరీ బోర్డు ను 1944 లో ఏర్పాటు చేసారు.
2. దీనికి చైర్మన్ గా కే.సి.నియోగి ఉన్నారు.
3. దీని సూచన మేరకు ప్రణాళిక సంఘము ఏర్పాటు చేసారు.
4. ప్రణాళిక సంఘం చైర్మన్ కే.సి.నియోగి మొట్ట మొదట పని చేసారు.

1.1,2                      2.1,2,3                      3.1,2,4                      4.1,2,3 & 4

73. మిశ్రమ ఆర్థిక వ్యవస్థ లో మొట్ట మొదటి సారి ప్రణాళికను ప్రవేశ పెట్టిన దేశం

1. USSR                      2. UK                      3. ఇండియా                      4. USA

74. క్రింది వాటిని జత పరుచుము

- |                           |                           |
|---------------------------|---------------------------|
| A. గాంధీ ప్రణాళిక         | I. ఏ. దలాల.               |
| B. ప్రజా ప్రణాళిక         | II. జయ ప్రకాష్ నారాయణ్    |
| C. సర్వోదయ ప్రణాళిక       | III. M.N. రాయ్            |
| D. బొంబాయి ప్రణాళిక       | IV. శ్రీమన్నారాయణ అగర్వాల |
| 1. A-I, B-II, C-III, D-IV | 2. A-IV, B-III, C-II, D-I |
| 3. A-III, B-IV, C-II, D-I | 4. A-II, B-III, C-IV, D-I |

75. మన దేశం లో ప్రవేశ పెట్టిన ప్రణాళికల కాల వ్యవధి ని బట్టి

1. స్వల్ప కాలిక                      2. మధ్య కాలిక                      3. దీర్ఘ కాలిక                      4. పై వేవి కావు.

76. క్రింది వాటిలో తప్పు వాక్యాను గుర్తించండి

1. 1950 మార్చి 15 న ప్రణాళిక సంఘం ఏర్పాటు
2. ప్రణాళిక సంఘం కేంద్ర దట్టం ద్వారా ఏర్పడింది
3. ప్రణాళిక సంఘం ఒక సలహా సంస్థ గా ఏర్పడింది.
4. ప్రణాళిక సంఘం ముఖ్య కార్యాలయం "యోజన్ భవన్"

77. క్రింది వాటిలో సరి అయిన వాఖ్యలను గుర్తించండి

1. ప్రణాళిక సంఘం చైర్మన్ ప్రధాన మంత్రి                      2. ప్రణాళిక సంఘం డిప్యూటీ చైర్మన్ను ప్రధానమంత్రి ఎన్నుకుంటారు
3. డిప్యూటీ చైర్మన్ కి క్యాబినెట్ హోదాలో 5 సం. కాల పరిమితి ఉంటుంది.
4. మొదటి ప్రణాళిక సంఘం డిప్యూటీ చైర్మన్ గుల్జారీ లాల్ నందా

1.1,2                      2.1,2,3                      3.1,2,4                      4.1,2,3,4

78. 49, 36, 56, 30, 68, ?, 1030, 1133, 1236

- 1.48                      2.54                      3.56                      4.42

79. 16, 15, 26, 20, 36, 25, ?, 30, 56, ?

1. 44, 30                      2. 46, 35                      3. 48, 40                      4. 45, 40

80. 651, 615, 837, ?, 367, 376, 793, 739

1. 783                      2. 873                      3. 387                      4. 738

81. 4/9, 9/20, ?, 39/86

1. 17/62                      2. 29/52                      3. 19/42                      4. 9/43

82. 1, 2, 6, 15, 31, 56, ?

1. 84                      2. 96                      3. 92                      4. 82

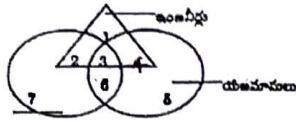
83. 2, 6, 24, 96, 285, 568, 567 ఈ శ్రేణిలో తప్పుగా ఉన్న సంఖ్య/ అంకె ఏది

1. 24                      2. 96                      3. 285                      4. 568

84. ఒక 15 గురి సమాహారంలో 7 మంది ఫ్రెంచి, 8 మంది ఇంగ్లీషును చదువుచున్నారు. ఇందులో ముగ్గురు (3) ఈ రెండింటిలో దేనిని చదవడములేదు. ఫ్రెంచి మరియు ఇంగ్లీషు రెండింటిని ఎంత మంది చదువుతున్నారు?

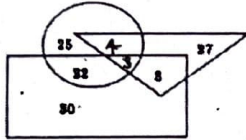
- 1) 0    2) 3    3) 4    4) 5

85. ఈ కింద ఇవ్వబడిన వెన్ రేఖా చిత్రం నందు యజమానులు మరియు మంచి పరిపాలనాదర్శకులు కాని ఇంజనీర్లను సూచించునది ఏది?



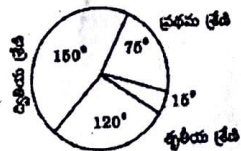
- 1) 1  
2) 2  
3) 4  
4) 4

సూచనలు : క్రింది పటాన్ని జాగ్రత్తగా పరిశీలించి 3 నుండి 7 వరకు గల ప్రశ్నలకు సమాధానములిమ్ము. త్రికోణం వైద్యులును ప్రతిబింబిస్తుంది. వృత్తం అటగాళ్లను, దీర్ఘచతురస్రము కళాకారులను ప్రతిబింబిస్తుంది




86. ఎంత మంది కళాకారులు అటగాళ్లుగా ఉన్నారు?  
1) 30    2) 25    3) 22    4) 29
87. ఎంత మంది కళాకారులు ఇటు అటగాళ్లు అటు వైద్యులు కాదు  
1) 25    2) 29    3) 22    4) 30
88. ఎంత మంది వైద్యులు అటు అటగాళ్లు ఇటు కళాకారులు కాదు?  
1) 30    2) 8    3) 27    4) 22
89. ఎంత మంది అటగాళ్లు ఇటు కళాకారులు అటు వైద్యులు కాదు?  
1) 4    2) 8    3) 3    4) 25

సూచనలు (8-12): పటం అధ్యయనం చేసి సమాధానాలు వ్రాయండి ఒక పాఠశాలలో 720 మంది విద్యార్థులు చదువుకొంటున్నారు.

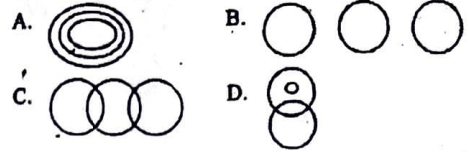


90. ఎంత మంది విద్యార్థులు స్కూలులో ఫెయిల్ అయ్యారు?  
1) 50    2) 30    3) 80    4) 100
91. మొత్తం ఎంత మంది విద్యార్థులు ఉత్తీర్ణులు అయ్యారు?  
1) 700    2) 550    3) 590    4) 690
92. ప్రథమ శ్రేణిలో ఎంత మంది విద్యార్థులు ఉత్తీర్ణులు అయ్యారు?  
1) 250    2) 150    3) 180    4) 120
93. తృతీయ శ్రేణిలో ఉత్తీర్ణులైన వారి సంఖ్య ఎంత?  
1) 60    2) 90    3) 400    4) పైవి ఏదీ కాదు
94. ప్రశ్న గుర్తు ఉన్న స్థలంలో తప్పిపోయిన సంఖ్యను కనుక్కోండి?



- 1) 40    2) 41    3) 39    4) 32

సూచనలు : 14 నుండి 19 వరకు ఇవ్వబడిన ప్రశ్నలకు క్రింద ఇవ్వబడిన వివిధ పటాల తార్కిక సంబంధాన్ని గమనించి జవాబులు గుర్తించుము.



95. మెకానిక్కులు, టెలిఫోన్లు, క్యాషియర్లు  
1) A    2) B    3) C    4) D
96. స్ట్రీటులు, తోట్లులు, పిల్లలు  
1) A    2) B    3) C    4) D
97. పనివారు, అక్షరాస్యులు, శిక్షణ పొందినవారు  
1) A    2) B    3) C    4) D
98. ఎగుమతులు, ఫైనాన్సియర్లు, వ్యాపారవేత్తలు  
1) A    2) B    3) C    4) D
99. నిర్వాహకులు, కార్మికులు, పర్యవేక్షకులు  
1) A    2) B    3) C    4) D
100. భాష, హిందీ, కళాత్మక పని  
1) A    2) B    3) C    4) D

ALL THE BEST  
TS SC STUDY CIRCLE: MBNR